

6 7 8 9 10 11 12 13 14 15 16 17 18 19 20





11 01 2025



Ce este bullyingul?
Il putem opri?









NUME: Maria

1. Calculează:

146 +	550 =
88	
228	
194	
678 +	
700	
125	
125	
321 -	

2. Calculează și ordonează rezultatele crescător:

142 + 89 =
325 + 285 =
640 -

3. Scrie numerele care completează ecuațiile:

$a - 150 = 74$
$a =$

4. Scrie numerele care completează ecuațiile:

$121 + 19 =$
$346 + 176 =$
$607 - 83 =$

5. Scrie numerele care completează ecuațiile:

$428 - 278 =$
$428 - 278 =$

6. Scrie numerele care completează ecuațiile:

$428 - 278 =$
$428 - 278 =$

7. Scrie numerele care completează ecuațiile:

$428 - 278 =$
$428 - 278 =$



Bogdan Samu

Clasa a II-a: Pregătire pentru Evaluarea Națională MEM
Fișă de exersare pentru luna decembrie

Pentru a face față comenzilor de sărbători, o cofetărie s-a pregătit cu o mulțime de bunătăți. În tabelul de mai jos este trecut numărul preparatelor din cofetărie.

Fursecuri	Torturi	Plăcinte	Cozonaci
201	54		


1. Unește cu o linie numărul scris cu...

- 256
- 98
- 145
- 89

2. Compară numărul torturilor cu cel al plăcintelor.
Scrie, în caseta de mai jos, unul dintre semnele $<$, $>$, $=$ pentru ca relația să fie corectă.

54 88





MATEMATICĂ

100 de zile de
Testul 6



Leviil clasei a doua vor să sărbătorească doamna învățătoare în acest an școlar. gini este trecut în tabelul de mai jos.

34	
105	

1. Câte imagini cu flori și fluturi au decupat copiii?

- a) 134;
- b) 193;
- c) 117;
- d) 139.

2. Care este diferența dintre numărul de imagini cu copaci înfloriți și numărul de imagini cu copaci înfrunziți?

- a) 139;
- b) 193;
- c) 117;
- d) 134.

3. Copiii au făcut câte o ghinoadă fiindcă o imagine cu pomii înfloriți. Câte ghinoadi au realizat în total?

- a) 139;
- b) 193;
- c) 117;
- d) 134.

4. Copiii au colorat de sărbătorile zilei de 6 ani mai puține stegulețe galbene. Câte stegulețe galbene au colorat?

- a) 139;
- b) 193;
- c) 117;
- d) 134.

5. După ce au decupat de la fișele le-au arătat câte o pe un panou. Pe panou au arătat câte două rânduri de stegulețe galbene.

- a) 139;
- b) 193;
- c) 117;
- d) 134.

6. Rogoșii au colorat câte două rânduri de stegulețe galbene. Câte stegulețe galbene au colorat în total?

- a) 139;
- b) 193;
- c) 117;
- d) 134.

7. Scrie pe spațiul dat rezolvarea problemei:

Câte ghinoadi au realizat în total?

8. Scrie pe spațiul dat rezolvarea problemei:

Câte stegulețe galbene au colorat în total?

9. După ce au decupat de la fișele le-au arătat câte o pe un panou. Pe panou au arătat câte două rânduri de stegulețe galbene.

- a) 139;
- b) 193;
- c) 117;
- d) 134.

10. Rogoșii au colorat câte două rânduri de stegulețe galbene. Câte stegulețe galbene au colorat în total?

- a) 139;
- b) 193;
- c) 117;
- d) 134.

11. Scrie pe spațiul dat rezolvarea problemei:

Câte ghinoadi au realizat în total?

12. Scrie pe spațiul dat rezolvarea problemei:

Câte stegulețe galbene au colorat în total?